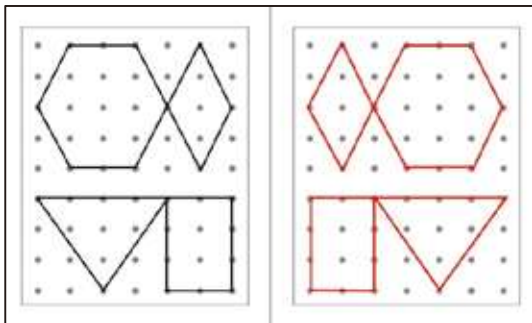


【標準版 6週 1日目の解答】

6-1
左右対称 〈P.92〉



6-1
2つの漢字ひろい 〈P.93〉



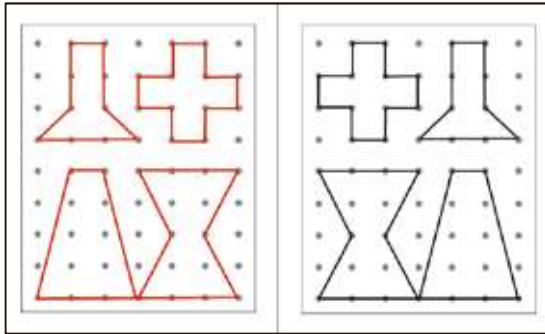
6-1
文章推理 〈P.94〉

<問題>
背の高い順に3人を並べてください。

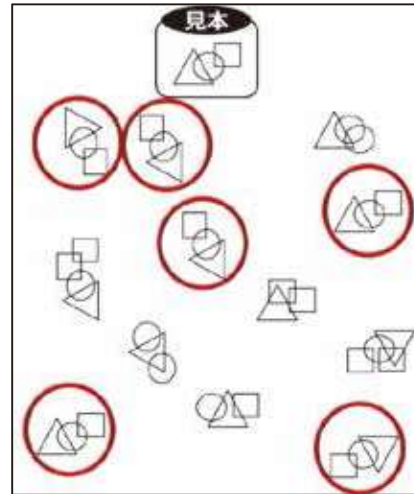
回答 花子 太郎 次郎

【標準版 6週 2日目の解答】

6-1
左右対称 〈P.98〉



6-2
回転図形ひろい 〈P.99〉



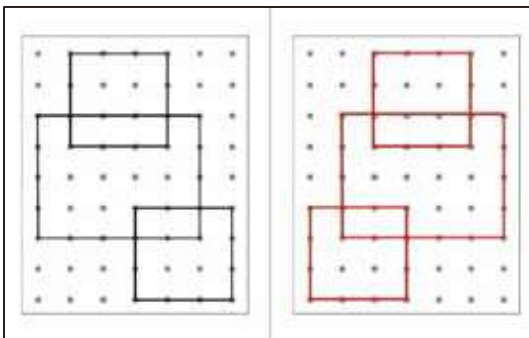
6-2
文章推理 〈P.100〉

〈問題〉
1番小さいカバンはどれですか。

回答 _____ **C**

【標準版 6週 3日目の解答】

6-3
左右対称 〈P.104〉



6-3
2つの漢字ひろい 〈P.105〉



6-3
文章推理 〈P.106〉

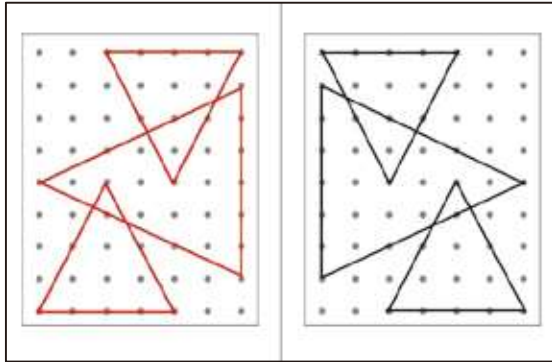
〈問題〉
長い順に3人の鉛筆を並べてください。

回答 _____ **三郎 梅子 義夫**

【標準版 6週 4日目の解答】

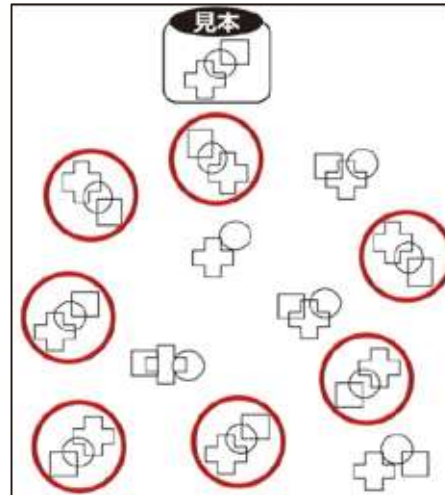
6-4

左右対称 〈P.110〉



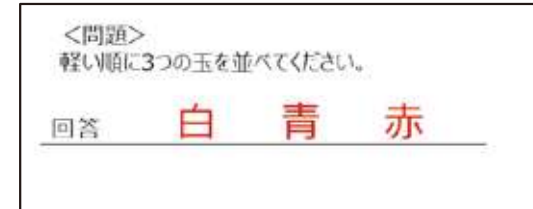
6-4

回転図形ひろい 〈P.111〉



6-4

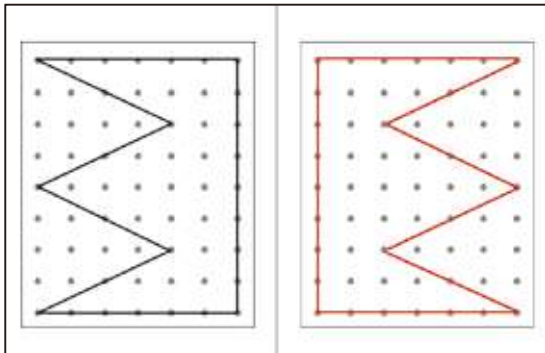
文章推理 〈P.112〉



【標準版 6週 5日目の解答】

6-5

左右対称 〈P.116〉



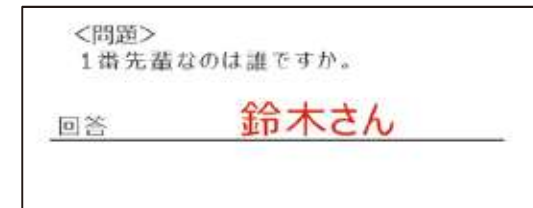
6-5

2つの漢字ひろい 〈P.117〉



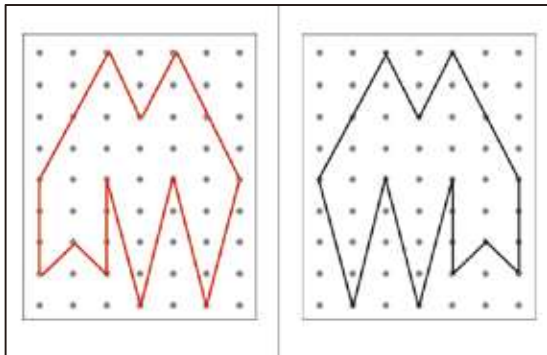
6-5

文章推理 〈P.118〉

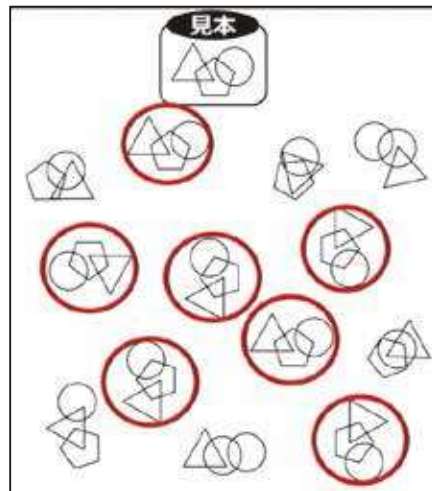


【標準版 6週 6日目の解答】

6-6
左右対称〈P.122〉



6-6
回転図形ひろい〈P.123〉



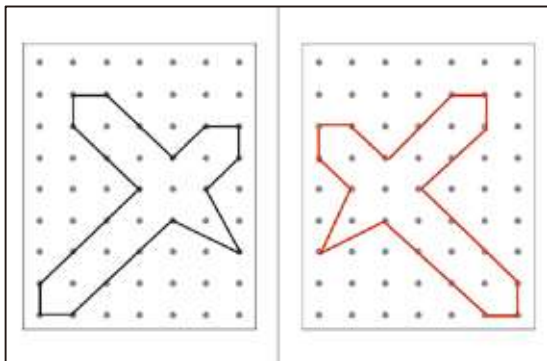
6-6
文章推理〈P.124〉

<問題>
1番速い車はどれですか。

回答 C

【標準版 6週 7日目の解答】

6-7
左右対称〈P.128〉



6-7
2つの漢字ひろい〈P.129〉



6-7
文章推理〈P.130〉

<問題>
人口が1番少ない市はどの市ですか。

回答 B